


MATH SNACKS

El Gato Razonador

Guía para el estudiante



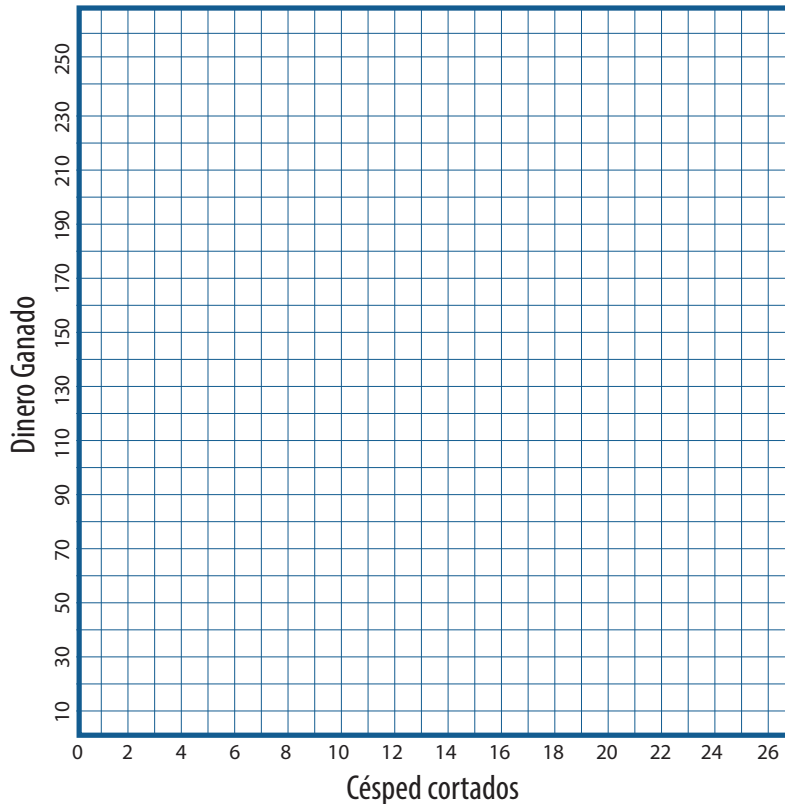
Mira el video *El Gato Razonador* y completa estas actividades. El video y la guía para el instructor están disponibles en iTunes U (haz una búsqueda usando "Math Snacks") y en mathsnacks.org



1. En el video *El Gato Razonador*, hay un muchacho que gana \$10 POR cortar el césped. Completa la tabla a continuación que represente el dinero ganado POR césped cortado.

Césped cortados	Dinero Ganado
1	
2	
3	
5	
10	
	250

A. Representa gráficamente los datos de la pregunta 1 en la cuadrícula a continuación.

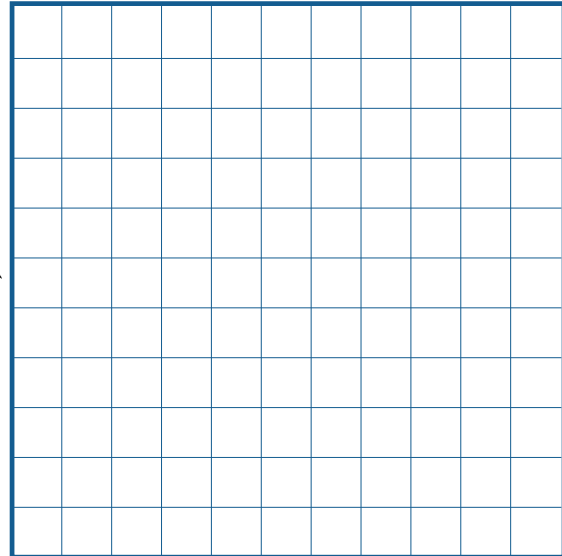


2. Enumera 5 razones diferentes de tu vida, usando la palabra **POR**, tal como "2 horas de videojuegos **POR** día".

1.	
2.	
3.	
4.	
5.	

A. Usando una de las razones que mencionaste en la pregunta 2, llena una tabla y completa una gráfica que represente tu razón. Asegúrate de marcar la tabla y la gráfica apropiadamente, y que la escala de tus variables "x" e "y", te permita representar gráficamente todos tus puntos.





Datos de Nutrición - Tamaño por porción: 4 oz
4 porciones por envase, 113g cada una.

Cantidad por porción

Calorías 280	Calorías de grasa 130
	% Valor Diario*
Total de Grasa 14g	22%
Grasa Saturada 3.5g	18%
Grasa Trans 2.5g	
Colesterol 120mg	40%
Sodio 640mg	27%
Total de Carbohidratos 13g	4%
Dietary Fiber 1g	4%
Azúcares 0g	
Proteína 24g	
Calorías por gramo	
Grasa 9 • Carbohidratos 4 • Proteína 4	

3. Preguntas sobre la información nutricional.

A. ¿Cuántas porciones hay POR envase?	
B. La etiqueta dice que hay 280 calorías POR porción. ¿Cuántas calorías hay POR envase?	
C. Si éste envase de comida fuera dividido igualmente entre 8 personas:	
1. ¿Cuántos gramos de grasa POR persona hay?	
2. ¿Cuántos gramos de proteína POR persona hay?	

Puntos extra: ¿Cuántas calorías de proteína **POR** porción hay en el envase?

--